

令和8年度〔2026年度〕

10月 総合型選抜

看護学科 小論文問題

東京医療保健大学

医療保健学部

問題 1.

図1は日本における日本人・外国人別の年齢階級別割合、図2は日本の総人口および総人口に占める年齢3区分別人口の人口割合の推移を示している。図1および図2を読み取り、「外国人との共生社会」が提唱される背景について、160字～200字で記述しなさい。

外国人：日本国内で生活もしくは滞在している外国人（在留外国人）をいい、観光客など3か月以内の短期滞在者を除く。

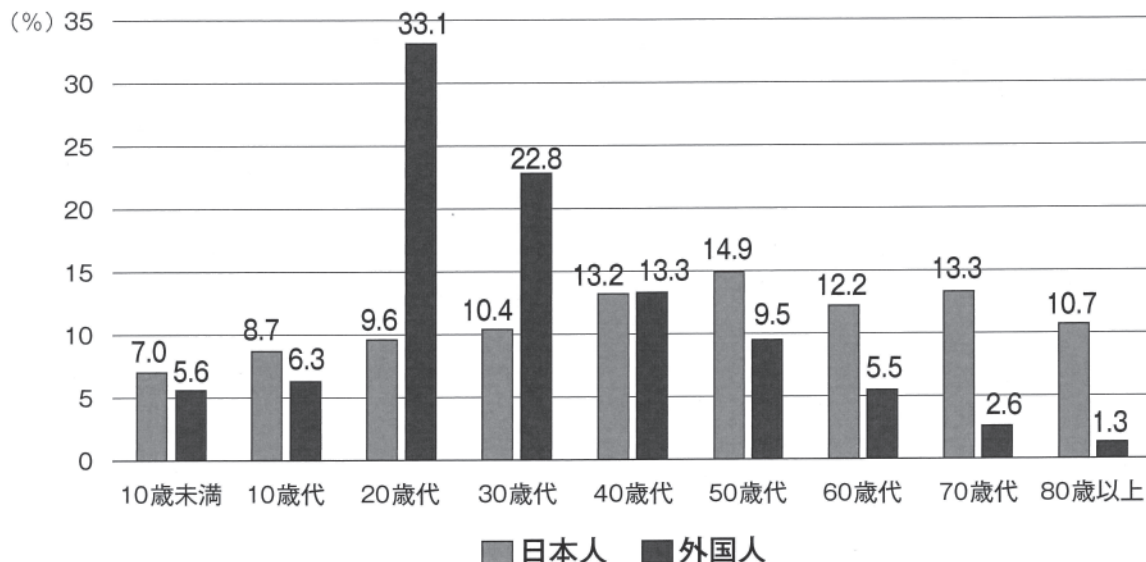


図 1. 日本人人口と外国人人口の年齢階級別割合

出典：総務省統計局人口推計（2024年（令和6年））および出入国在留管理庁在留外国人統計（2024年12月末）をもとに作表
<https://www.stat.go.jp/data/jinsui/2024np/index.html>
https://www.moj.go.jp/isa/policies/statistics/toukei_ichiran_touroku.html

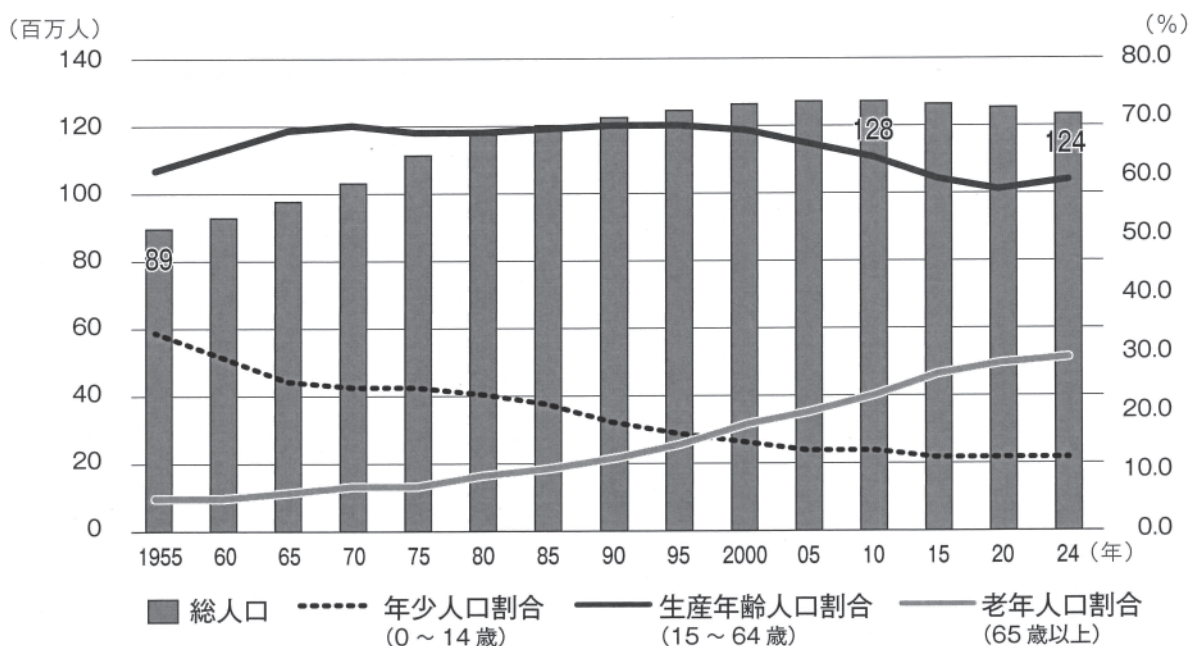


図 2. 日本の総人口および総人口に占める年齢3区分別人口の人口割合の推移

出典：総務省. 人口推計（2024年（令和6年）10月1日現在）をもとに作成
<https://www.stat.go.jp/data/jinsui/2024np/index.html>

問題 2.

図3は日本人に「外国人にとって、生活で困っていること、不満なことは何だと思うか」をたずねた結果をまとめたものである。図3を参考に、外国人が困っているとあなたが思うことを2つあげ、その理由とそれを軽減するためにあなた自身ができることを160字～200字で端的に記述しなさい。

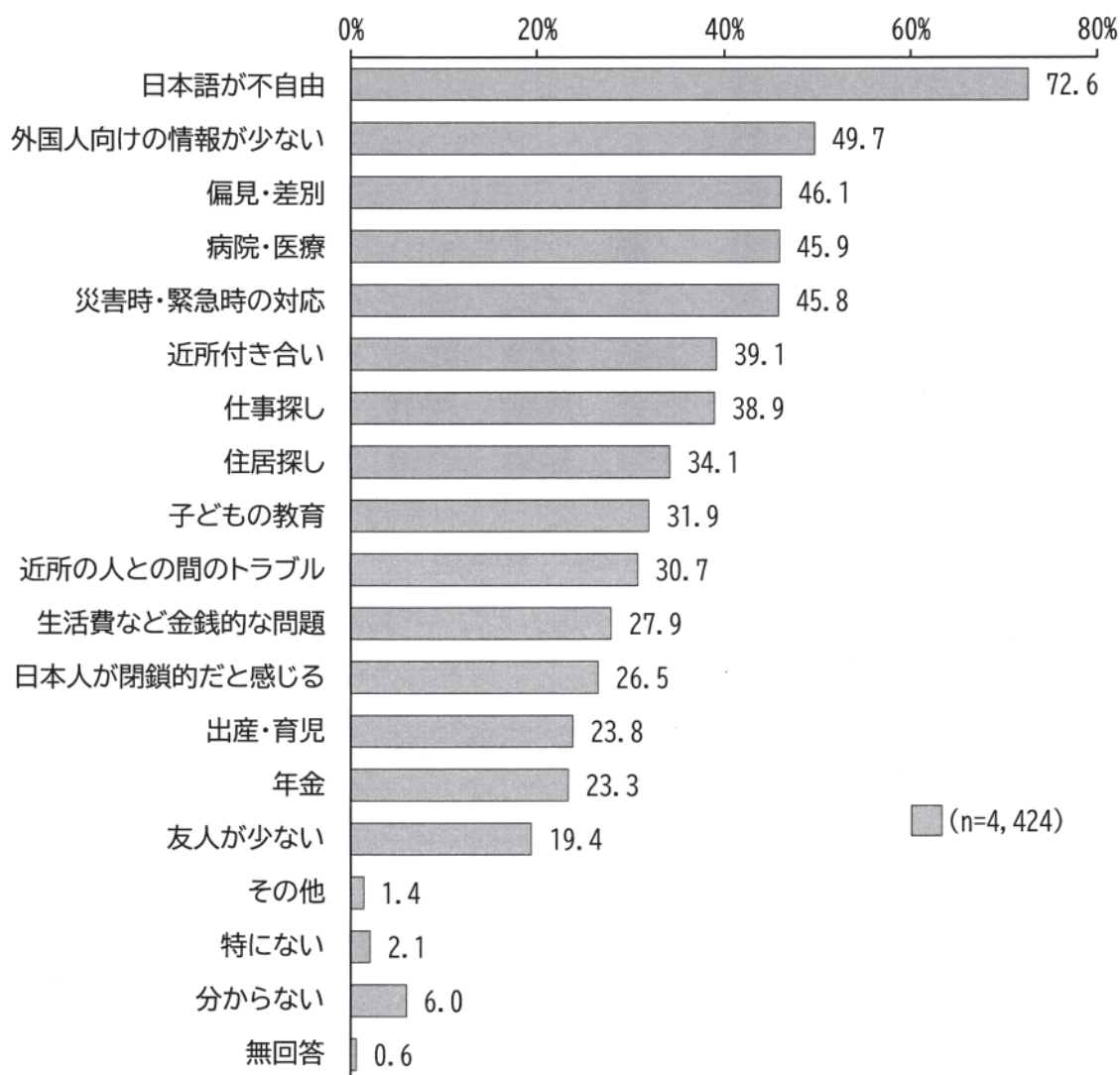


図3. 外国人が困っていると思うこと（複数回答）

出典：株式会社サーベイリサーチセンター. 外国人との共生に関する意識調査（日本人対象）報告書；
令和5年度 出入国在留管理庁委託事業
<https://www.moj.go.jp/isa/content/001416010.pdf>

問題3.

図4は、日本における外国人労働者数の推移と産業別割合の変化を示したものである。なかでも「医療、福祉」の外国人労働者数は「斜字」で示した。2024年の「医療、福祉」の産業別割合を計算しなさい。なお、小数点第2位を四捨五入し、小数点第1位まで記入しなさい。

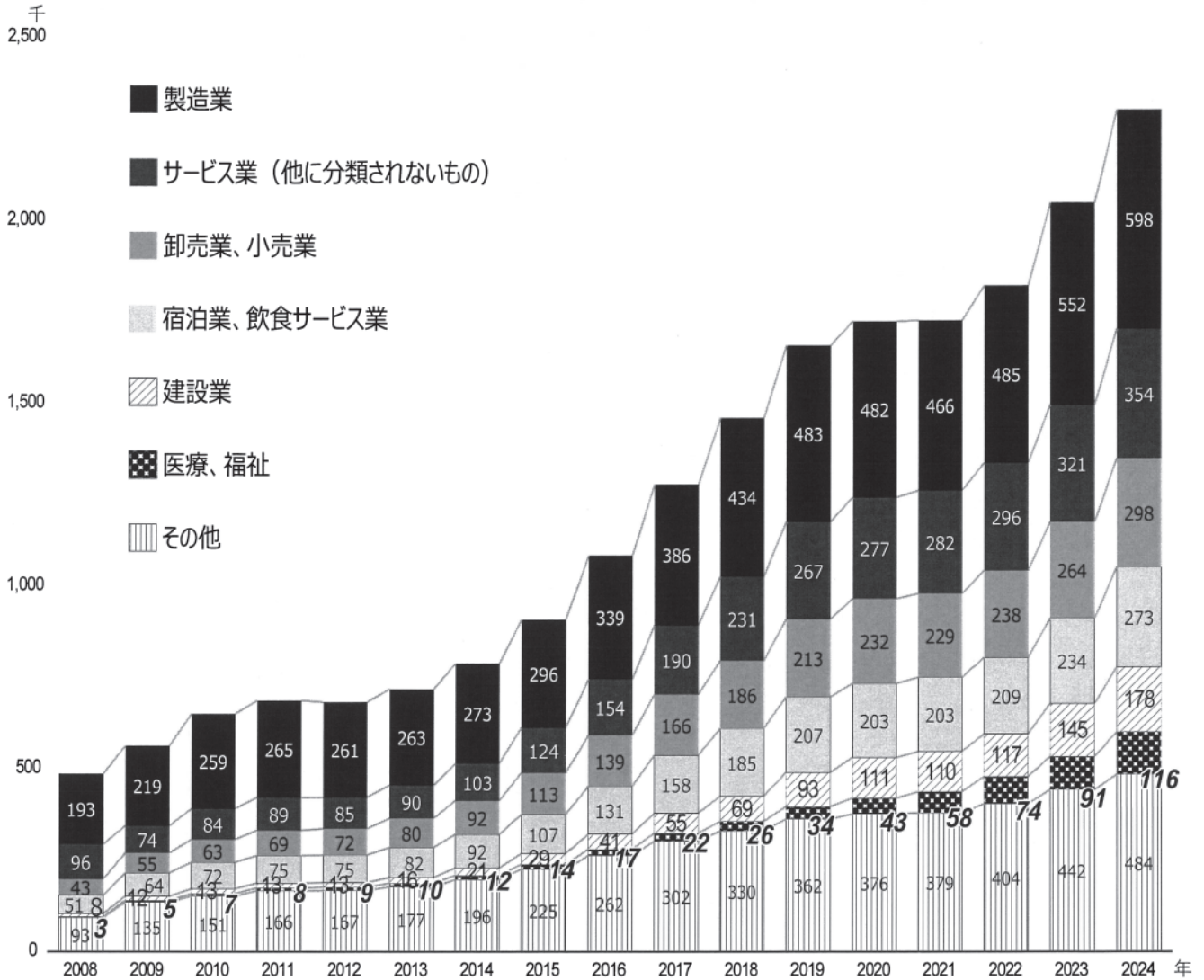


図4. 産業別外国人労働者の推移

出典：厚生労働省「外国人雇用状況」の届出状況まとめ【本文】（令和6年10月末時点）P5.図2-1をもとに作成

https://www.mhlw.go.jp/stf/newpage_50256.html

<https://www.mhlw.go.jp/content/11655000/001389442.pdf>

問題4.

図5は、都道府県別・産業別外国人労働者割合を示したものである。図4および図5から近年の傾向を読み取り、「外国人と共生する社会のあり方」に関する課題と解決策を320字～400字で述べなさい。

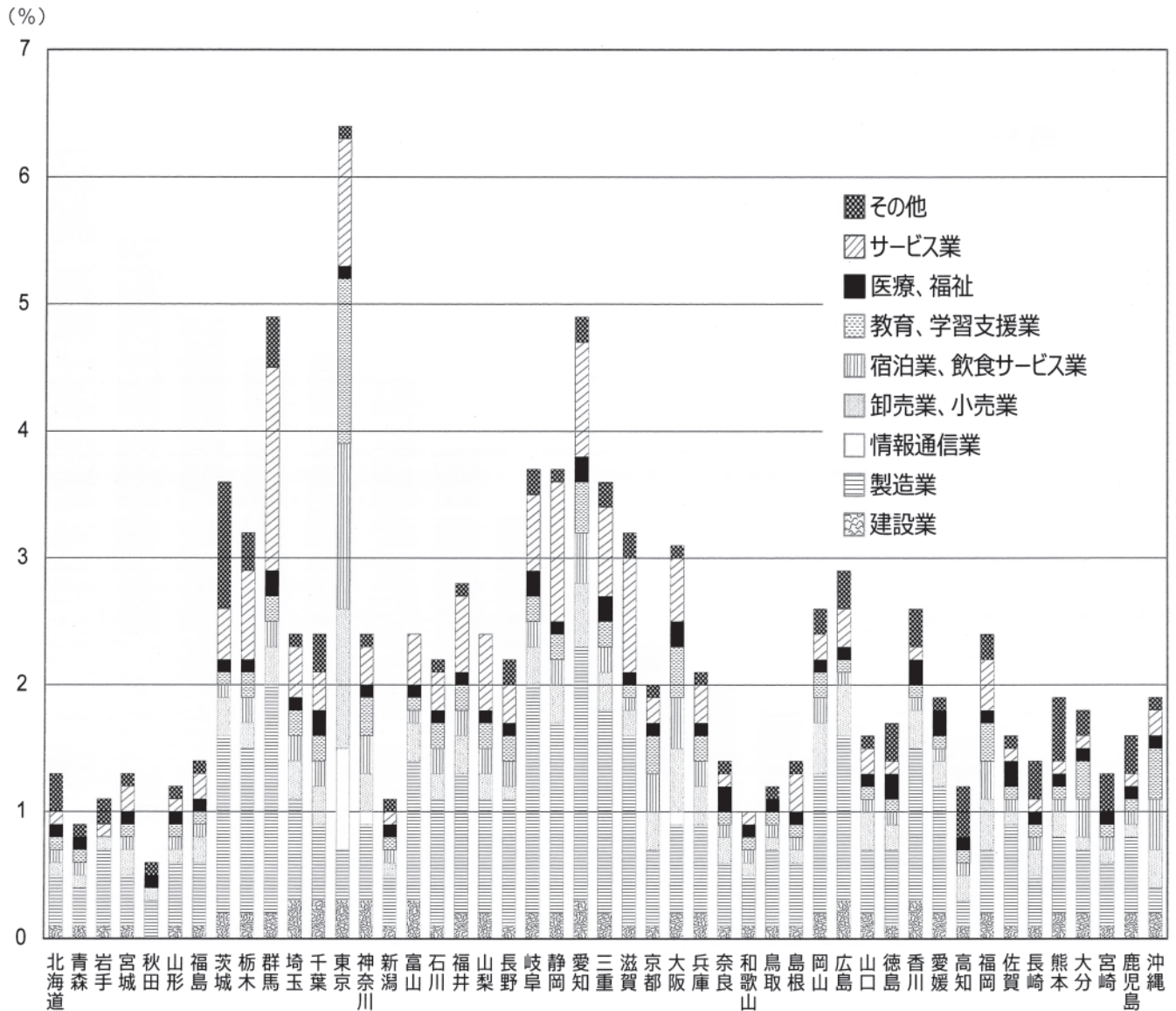


図5. 都道府県別・産業別外国人労働者割合

出典：内閣府「令和6年度 年次経済財政報告：一熱量あふれる新たな経済ステージへー第3節我が国における外国人労働者の現状と課題」P205.図2-3-5をもとに作成

https://www5.cao.go.jp/j-j/wp/wp-je24/index_pdf.html

<https://www5.cao.go.jp/j-j/wp/wp-je24/pdf/p020003.pdf>